

得点

学校名 _____ 高校 正規・B 男・女

設問1 次の文章の空欄に最適な語をそれぞれ後の語群から選んで記号で答えよ。

飯縄山は、江戸時代まで（ A ）山、小菅山（飯山市瑞穂）とともに信州の三大修験道場であった。また、川中島の合戦で知られる（ B ）の兜の前立ては飯縄大権現であり、飯縄山が信仰の山として広く浸透していたことがうかがわれる。

飯縄山は、今も大勢の人々に親しまれ、戸隠山、（ C ）山(2053m)、妙高山(2446m新潟県)、斑尾山(1382m)とともに長野県の北部一帯では「（ D ）」と総称され、故郷のシンボルとして愛されている。飯縄山を、南の（ E ）平から見ると、ほとんど同じ高度に左右のピークが頂稜を結んでいるが、三角点があるのは右のピークで、左のピークには飯縄大権現を祀った小さな神社がある。右の山頂から北1kmには霊仙寺山がかわいいピラミッド型にそびえている。また、飯縄山麓には湖沼が多く、比較的大きいものでは霊仙寺湖、（ F ）池、猫又池、大池、一ノ倉池などがある。

飯縄山は植物の垂直分布の変化がわかりやすく、一ノ鳥居側の登山道を例にとると、登山道付近は植林された（ G ）林が多い。やがてミズナラを主とする広葉樹林となり、シラカンバも混じる。山頂に近づくにつれダケカンバに変わっていくが、やがて樹高も低くなり、わずかにコメツガなどの針葉樹も混じってくる。夏期は低木の（ H ）が白い花をつけてよく目立つ。

- [語群] A ①立 ②御岳 ③戸隠 ④恵那 ⑤金峰
 B ①武田信玄 ②山本勘助 ③真田幸村 ④上杉謙信 ⑤直江兼続
 C ①黒姫 ②火打 ③四阿 ④高妻 ⑤荒倉
 D ①北信濃五峰 ②北信濃五山 ③北信五峰 ④北信五山 ⑤北信五岳
 E ①小梨 ②ケヤキ ③カヤノ ④善光寺 ⑤長野
 F ①大沼 ②天狗ヶ ③七ツ ④大座法師 ⑤二子
 G ①スギ ②アカマツ ③カラマツ ④ヒノキ ⑤ブナ
 H ①オサバグサ ②ノリウツギ ③ゴゼンタチバナ ④キヌガサソウ ⑤ダケカンバ

A	B	C	D	E	F	G	H

設問2 次の地点の標高として正しいものを選んで記号で答えよ。

- A 飯縄山山頂 B 霊仙寺山山頂 C 瑠璃山
 (①1717m ②1748m ③1875m ④1904m ⑤1917m)



A	B	C

設問3 次の文章のうち正しいものには○印を、誤っているものには×印をつけよ。

- A 飯縄山登山路は全部で4つあり、南は一ノ鳥居口からのルート、西は戸隠奥社からのルートがある。
 B 飯縄山は、飯縄火山群と呼ばれる火山群の南端に位置し、飯縄火山が最初に噴火活動を起こした。
 C 飯縄山は、截頭円錐型の二重式成層火山の主峰である。

A	B	C

設問4 次の地図記号の名称を答えよ。

A B  C 

A	B	C

設問5 次のA～Cの意味を表す登山用語を語群より選び、記号で答えよ。

- A 荷物を一時登路の途中に置いておくこと。また、その場所。
 B 谷間の狭まったところ。 C 踏み跡。また踏み跡をたどること。

- [語群] ①キレット ②コル ③ゴルジュ ④スタンス ⑤スラブ ⑥デポ ⑦トレース

A	B	C

学校名 _____ 高校 正規・B 男・女

設問1 次の文章の空欄に最適な語をそれぞれ後の語群から選んで記号で答えよ。

飯縄山は、江戸時代まで（ A ）山、小菅山（飯山市瑞穂）とともに信州の三大修験道場であった。また、川中島の合戦で知られる（ B ）の兜の前立ては飯縄大権現であり、飯縄山が信仰の山として広く浸透していたことがうかがわれる。

飯縄山は、今も大勢の人々に親しまれ、戸隠山、（ C ）山(2053m)、妙高山(2446m新潟県)、斑尾山(1382m)とともに長野県の北部一帯では「（ D ）」と総称され、故郷のシンボルとして愛されている。飯縄山を、南の（ E ）平から見ると、ほとんど同じ高度に左右のピークが頂稜を結んでいるが、三角点があるのは右のピークで、左のピークには飯縄大権現を祀った小さな神社がある。右の山頂から北1kmには霊仙寺山がかわいいピラミッド型にそびえている。また、飯縄山麓には湖沼が多く、比較的大きいものでは霊仙寺湖、（ F ）池、猫又池、大池、一ノ倉池などがある。

飯縄山は植物の垂直分布の変化がわかりやすく、一ノ鳥居側の登山道を例にとると、登山道付近は植林された（ G ）林が多い。やがてミズナラを主とする広葉樹林となり、シラカンバも混じる。山頂に近づくにつれダケカンバに変わっていくが、やがて樹高も低くなり、わずかにコメツガなどの針葉樹も混じってくる。夏期は低木の（ H ）が白い花をつけてよく目立つ。

- [語群] A ①立 ②御岳 ③戸隠 ④恵那 ⑤金峰
 B ①武田信玄 ②山本勘助 ③真田幸村 ④上杉謙信 ⑤直江兼続
 C ①黒姫 ②火打 ③四阿 ④高妻 ⑤荒倉
 D ①北信濃五峰 ②北信濃五山 ③北信五峰 ④北信五山 ⑤北信五岳
 E ①小梨 ②ケヤキ ③カヤノ ④善光寺 ⑤長野
 F ①大沼 ②天狗ヶ ③七ツ ④大座法師 ⑤二子
 G ①スギ ②アカマツ ③カラマツ ④ヒノキ ⑤ブナ
 H ①オサバグサ ②ノリウツギ ③ゴゼンタチバナ ④キヌガサソウ ⑤アズマシャクナゲ

A	B	C	D	E	F	G	H
③	④	①	⑤	④	④	③	②

設問2 次の地点の標高として正しいものを選んで記号で答えよ。

- A 飯縄山山頂 B 霊仙寺山山頂 C 瑠璃山
 (①1717m ②1748m ③1875m ④1904m ⑤1917m)



A	⑤	B	③	C	②
---	---	---	---	---	---

設問3 次の文章のうち正しいものには○印を、誤っているものには×印をつけよ。

- A 飯縄山登山路は全部で4つあり、南は一ノ鳥居口からのルート、西は戸隠奥社からのルートがある。
 B 飯縄山は、飯縄火山群と呼ばれる火山群の南端に位置し、飯縄火山が最初に噴火活動を起こした。
 C 飯縄山は、截頭円錐型の二重式成層火山の主峰である。

A	×	B	×	C	○
---	---	---	---	---	---

設問4 次の地図記号の名称を答えよ。

A B  C 

A	植生界	B	広葉樹林	C	岩
---	-----	---	------	---	---

設問5 次のA～Cの意味を表す登山用語を語群より選び、記号で答えよ。

- A 荷物を一時登路の途中に置いておくこと。また、その場所。
 B 谷間の狭まったところ。 C 踏み跡。また踏み跡をたどること。

- [語群] ①キレット ②コル ③ゴルジュ ④スタンス ⑤スラブ ⑥デポ ⑦トレース

A	⑥	B	③	C	⑦
---	---	---	---	---	---